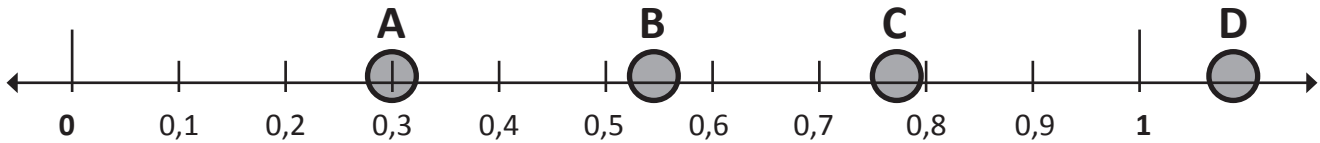




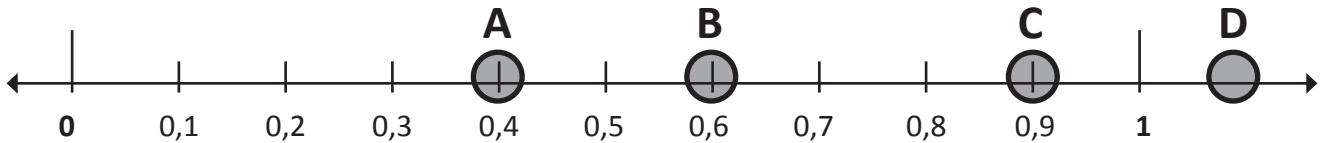
## Decimales en la recta numérica

Lee y observa. Escribe la respuesta en el  correspondiente



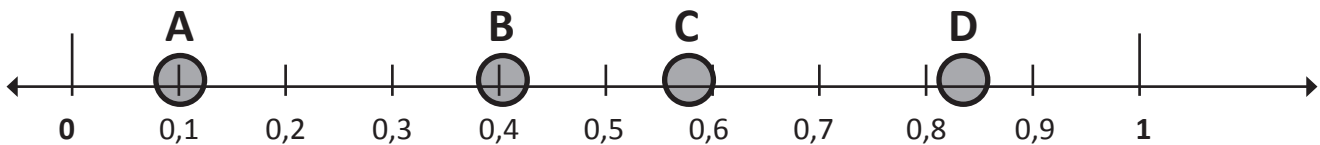
¿Qué letra representa mejor la ubicación de 0,3 en la recta numérica?

¿Qué letra representa mejor la ubicación de 0,55 en la recta numérica?



¿Qué letra representa mejor la ubicación de 0,9 en la recta numérica?

¿Qué letra representa mejor la ubicación de 0,4 en la recta numérica?



¿Qué letra representa mejor la ubicación de 0,1 en la recta numérica?

¿Qué letra representa mejor la ubicación de 0,84 en la recta numérica?